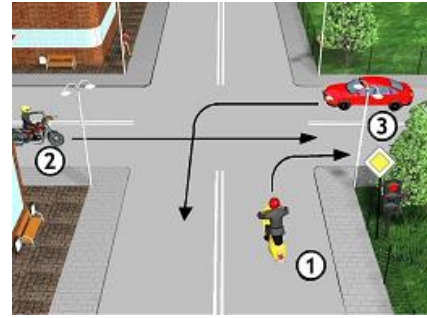


Młodzieżowy Turniej Motoryzacyjny – skrzyżowania
(test jednokrotnego wyboru – tylko jedna odpowiedź jest prawidłowa)

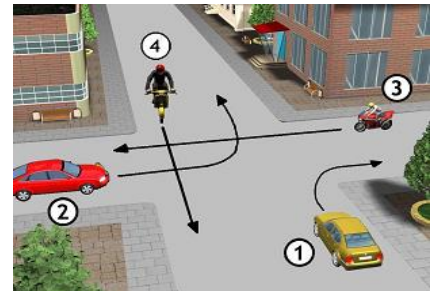
1. Który pojazd opuści to skrzyżowanie jako pierwszy (pojazd 1 ma czerwone światło)?

- a. 3
- b. 2
- c. 1



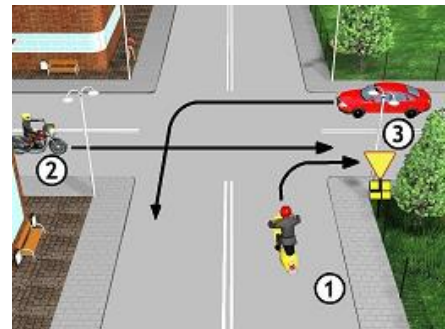
2. Podaj kolejność przejazdu przez to skrzyżowanie:

- a. 1 – 2 – 3 – 4
- b. 1 – 2 – 4 – 3 i 2 zjeżdża
- c. 3 – 1 – 2 – 4



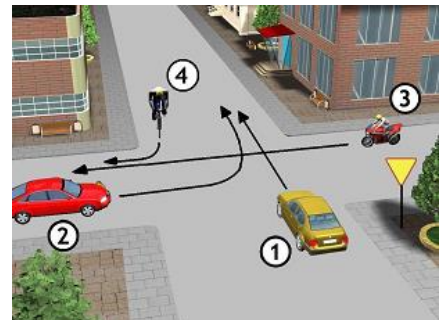
3. Który pojazd opuści to skrzyżowanie jako pierwszy?

- a. 3
- b. 2
- c. 1



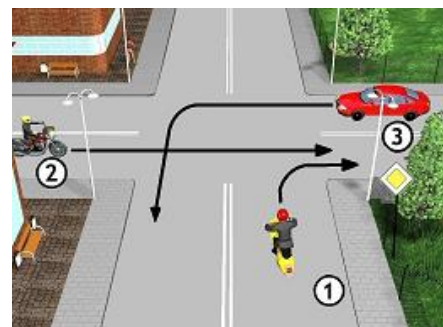
4. Który pojazd opuści to skrzyżowanie jako drugi?

- a. 1
- b. 2
- c. 3



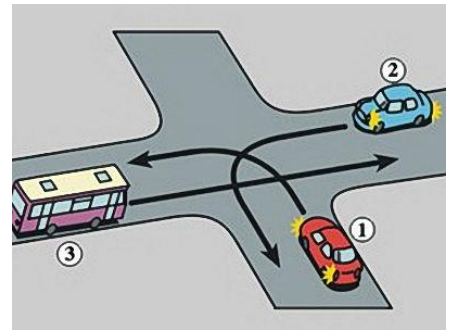
5. Który pojazd opuści to skrzyżowanie jako trzeci?

- a. 2
- b. 1
- c. 3



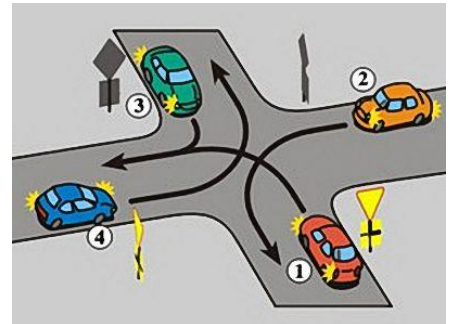
6. Na tym skrzyżowaniu kierujący pojazdem 1:

- a. przejeżdża pierwszy
- b. ustępuje pierwszeństwa pojazdowi 3
- c. ustępuje pierwszeństwa pojazdowi 2



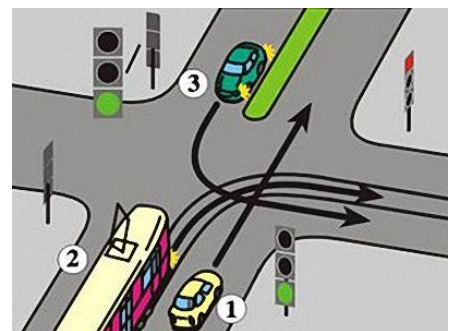
7. Na tym skrzyżowaniu kierujący pojazdem 1 ustępuje pierwszeństwa:

- a. tylko pojazdowi 2
- b. pojazdom 2 i 3
- c. pojazdowi 4



8. Kierujący pojazdem 1:

- a. przejeżdża pierwszy
- b. ustępuje pierwszeństwa pojazdowi szynowemu
- c. nie ma pierwszeństwa przed pojazdem 3



9. Podaj kolejność przejazdu przez to skrzyżowanie:

- a. ambulans – samochód z przeciwka – motorower – samochód z prawej strony
- b. ambulans – samochód z przeciwka – samochód z prawej strony – motorower
- c. ambulans – motorower – samochód z przeciwka – samochód z prawej strony



10. Podaj kolejność przejazdu przez to skrzyżowanie:

- a. samochód z prawej strony – samochód z lewej strony – samochód z przeciwka – motorower
- b. samochód z przeciwka – samochód z lewej strony – samochód z prawej strony – motorower
- c. samochód z przeciwka – samochód z prawej strony – motorower – samochód z lewej strony

